

樂善堂楊仲明學校
數學科一年級自學工作紙(四)

姓名： _____ ()

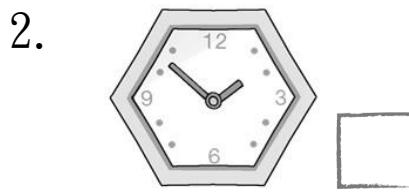
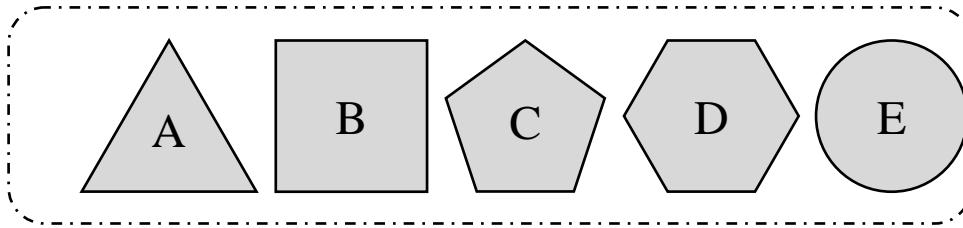
日期： _____

班別： 一年級 _____ 班

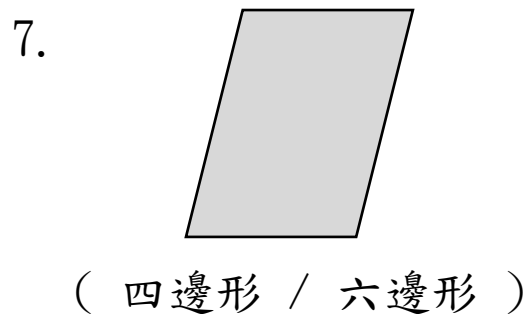
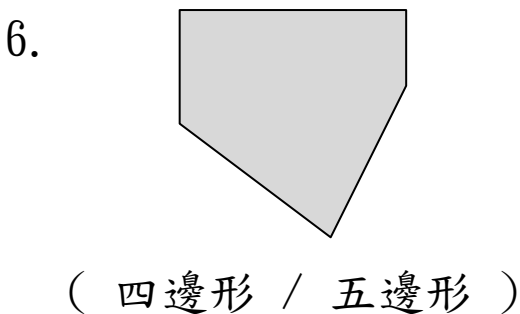
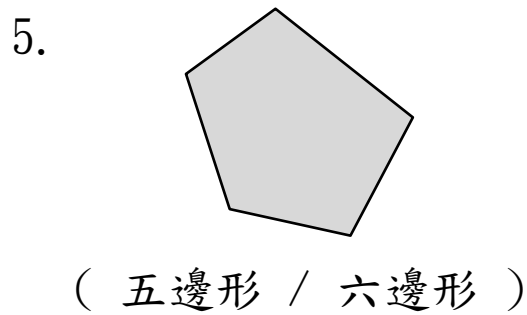
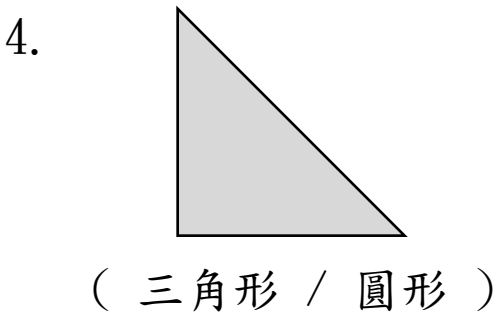
成績： _____

平面圖形 (二)

下列物件的外形像哪一種平面圖形？在 內填寫適當的英文字母。

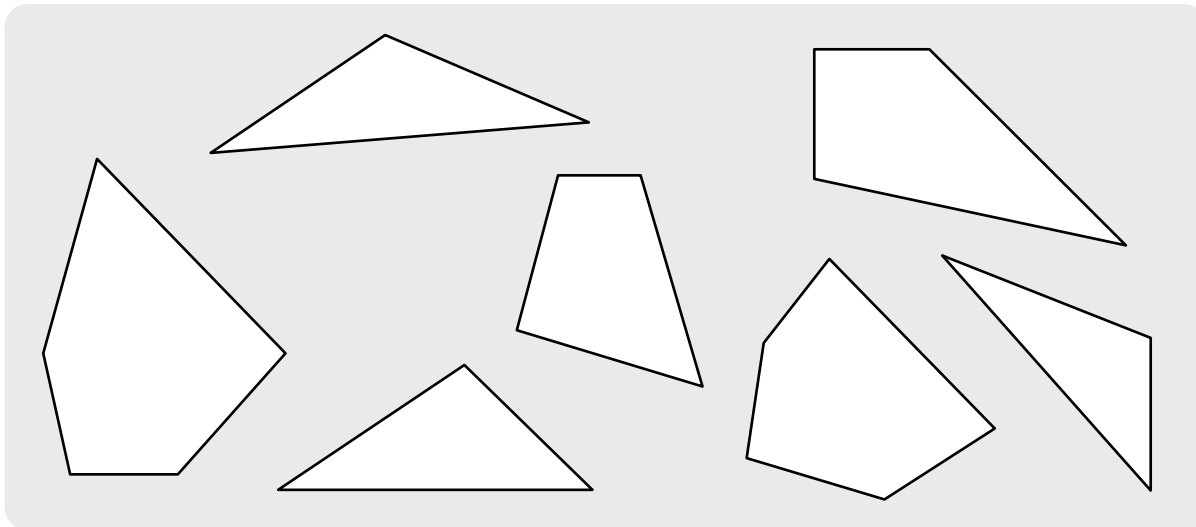


圈出圖形的名稱。



數一數以下圖形，並填填看。

8.



圖中有 _____ 個三角形、
_____ 個四邊形和
_____ 個五邊形。

依指示填色。

9. 把圓形填上綠色。
10. 把三角形填上紅色。
11. 把四邊形填上橙色。
12. 把五邊形填上藍色。
13. 把六邊形填上黃色。

