

數學科二年級自學工作紙 (二)

姓名： _____ ()


日期： _____

班別： _____年級_____班

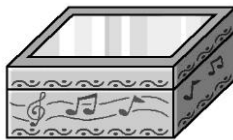
成績： _____

下面各物件的外形像角柱還是圓柱？如果像角柱的，在空格內加「△」，像圓柱的加「○」。


1.



2.



3.



4.



5.



6.



下列用泥膠和竹枝製成的是哪一種立體？填填看。

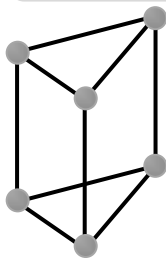
圓柱體

正方體

三角柱體

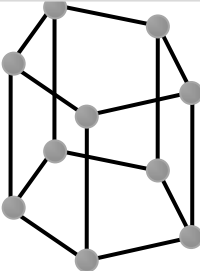
五角柱體

7.



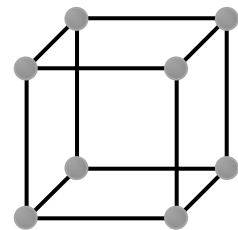
三角柱體

8.



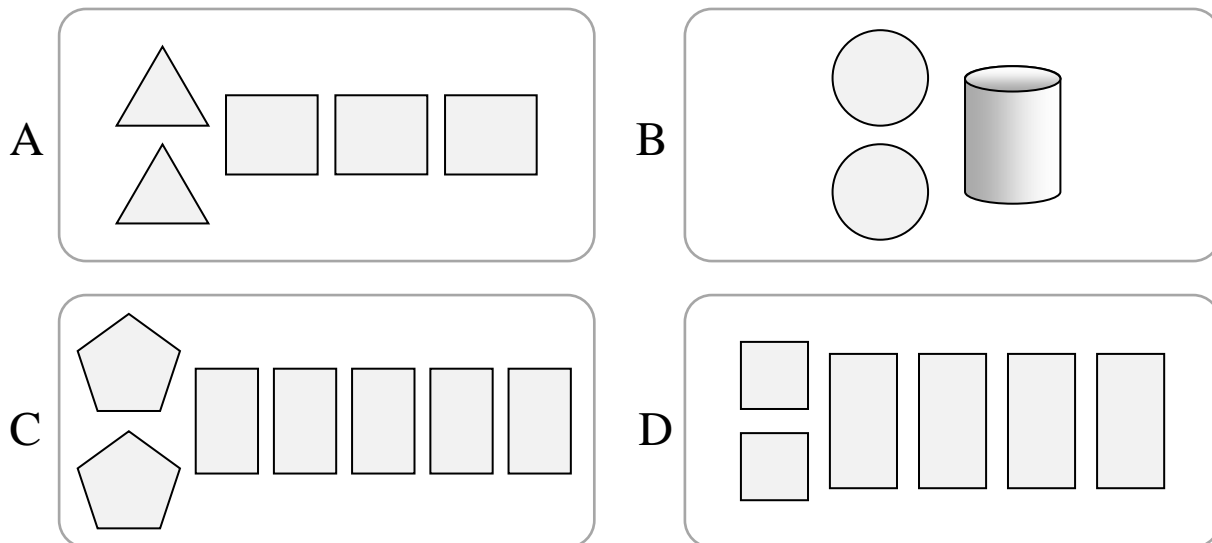
五角柱體

9.

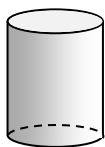


正方體

找出下列各立體圖形的所有面，把代表答案的英文字母填在空格內，並填填看。



10.

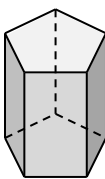


B

這是圓柱體。

 2 個底是相同的圓形，
側面是 1 個曲面。

11.

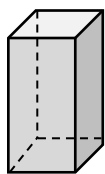


C

這是五角柱體。

 2 個底是相同的五邊形，
 5 個側面都是長方形。

12.

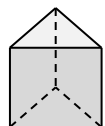


D

這是四角柱體。

 2 個底是相同的四邊形，
4 個側面都是 長方 形。

13.



A

這是三角柱體。

2 個底是相同的 三角 形，
 3 個側面都是長方形。