

樂善堂楊仲明學校
數學科三年級自學工作紙(三)

姓名： _____ ()

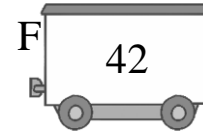





日期： _____

班別： _____ 年級 _____ 班

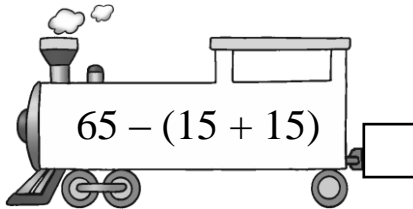
成績： _____ /10

第一課：括號的認識

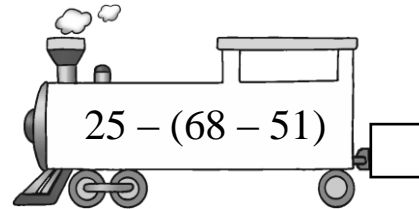
找出代表正確答案的火車卡，把英文字母填在空格內。



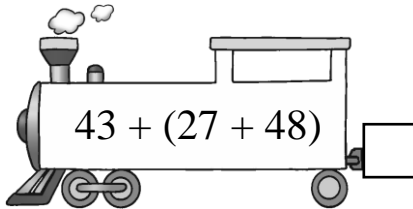
1.



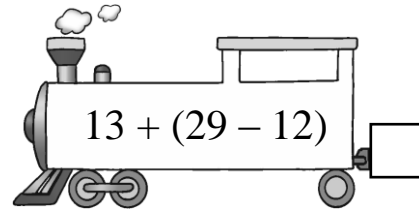
2.



3.



4.



算算看，然後比較各算式的計算結果，圈出正確的答案。

5. $218 - (56 + 77) = \square$
 $218 - 56 + 77 = \square$ } 計算結果 (相同 / 不相同)。

6. $170 + (84 - 36) = \square$
 $170 + 84 - 36 = \square$ } 計算結果 (相同 / 不相同)。

7. $145 - (91 - 28) = \square$
 $145 - 91 - 28 = \square$ } 計算結果 (相同 / 不相同)。

泰式美食

餐牌(只供外賣)					
泰式沙律	每客	\$143	菠蘿炒飯	每客	\$37
咖哩炒蟹	每客	\$84	冬蔭功湯	每客	\$45
生菜包	每客	\$	芒果糯米飯	每客	\$

列式計算下列各題。(運用括號列式計算)

8. 俊彥付 100 元，買菠蘿炒飯和冬蔭功湯各一客，應找回多少元？

應找回：

$$\begin{aligned} & 100 - (\square \bigcirc \square) \\ & = 100 - \square \\ & = \square \text{ (元)} \end{aligned}$$

9. 生菜包比咖哩炒蟹便宜 10 元，雲妮買生菜包和咖哩炒蟹各一客，共需付多少元？

$$\begin{aligned} & \underline{\hspace{2cm}} \\ & = \underline{\hspace{2cm}} \\ & = \underline{\hspace{2cm}} \end{aligned}$$

生菜包每客售
(84 - \square) 元。

10. 一客芒果糯米飯比冬蔭功湯貴 7 元，一客泰式沙律比一客芒果糯米飯貴多少元？

用括號表示先計算的部分。