

數學科四年級自學工作紙(一)

姓名： _____ ()

日期： _____

班別： 四年級 _____ 班

成績： _____

算算看。

1. $458 \times 30 = 13\,740$

2. $105 \times 23 = 2\,415$

3. $14 \times 620 = 8\,680$

$$\begin{array}{r} 4. \quad 905 \\ \times \quad 80 \\ \hline 72400 \end{array}$$


$$\begin{array}{r} 5. \quad 242 \\ \times \quad 57 \\ \hline 12100 \\ \hline 1694 \\ \hline 13794 \end{array}$$

242×50

242×7

動物之王


動物們開大會選出誰是「動物之王」，試計算牠們身上的乘式，乘式的結果代表牠們的得票數量。



老虎

我得 $10\,890$ 票。

我得 $6\,030$ 票。




獅子



犀牛

我得 $4\,272$ 票。

我得 $22\,400$ 票。



大象

10. (老虎 / 獅子 / 犀牛 / **大象**) 得票最多，牠當選為「動物之王」。

列式計算下列各題。

11. 公園內的緩跑徑全長 250 米，洛文沿着整條緩跑徑跑了 10 次，即跑了多少米？

$$\begin{aligned} & 250 \times 10 \\ & = 2500 \\ & \text{即跑了 2500 米。} \end{aligned}$$

$$\begin{array}{r} 250 \\ \times 10 \\ \hline 2500 \end{array}$$

12. 玩具廠每天生產玩具熊 198 隻，35 天可生產玩具熊多少隻？

$$\begin{aligned} & 198 \times 35 \\ & = 6930 \\ & \text{35 天可生產玩具熊 6930 隻。} \end{aligned}$$

$$\begin{array}{r} 198 \\ \times 35 \\ \hline 990 \\ 5940 \\ \hline 6930 \end{array}$$

13. 陳先生購買電視機每月供款 456 元，一年共供款多少元？

$$\begin{aligned} & 456 \times 12 \\ & = 5472 \\ & \text{一年共供款 5472 元。} \end{aligned}$$

$$\begin{array}{r} 456 \\ \times 12 \\ \hline 912 \\ 4560 \\ \hline 5472 \end{array}$$

14. 每輛巴士最多可載 125 人。有 16 輛巴士，最多可載多少人？

$$\begin{aligned} & 125 \times 16 \\ & = 2000 \\ & \text{最多可載 2000 人。} \end{aligned}$$

$$\begin{array}{r} 125 \\ \times 16 \\ \hline 750 \\ 1250 \\ \hline 2000 \end{array}$$