

數學科四年級自學工作紙(二)

姓名： \_\_\_\_\_ ( )

日期： \_\_\_\_\_

班別： 四年級 \_\_\_\_\_ 班

成績： \_\_\_\_\_

填填看。

$$\begin{aligned}
 1. \quad & 7 \times 2 \times 5 \\
 & = 7 \times \boxed{10} \\
 & = \boxed{70}
 \end{aligned}$$

$$\begin{aligned}
 2. \quad & 15 \times 9 \times 2 \\
 & = \boxed{15} \times \boxed{2} \times 9 \\
 & = \boxed{30} \times 9 \\
 & = \boxed{270}
 \end{aligned}$$

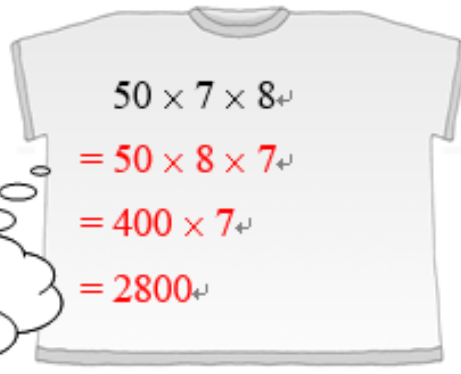
試用你認為較快捷的計算方法，計算下列各題。

算式只供參考，計算方法應由學生自行選擇。

3.

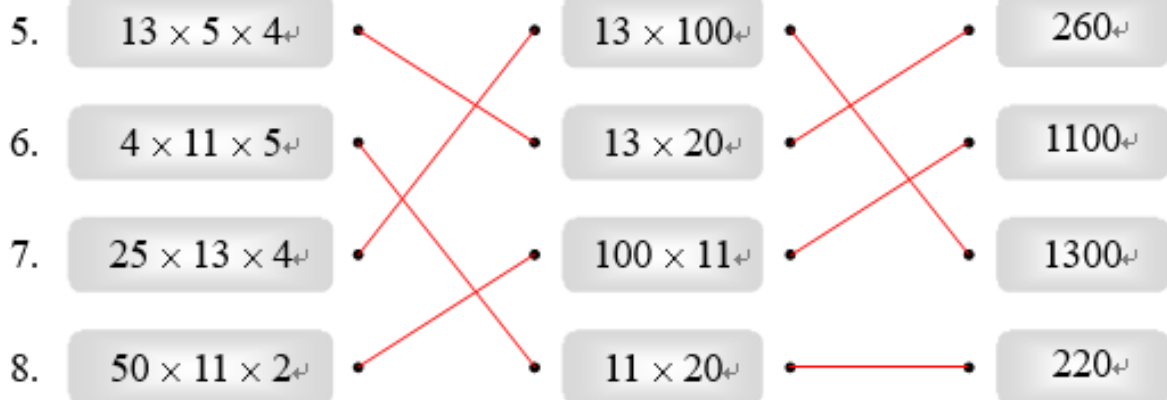


4.



哪兩個數的積是整百數？

▲ 把相配的乘式和答案連起來。



填一填，算一算。

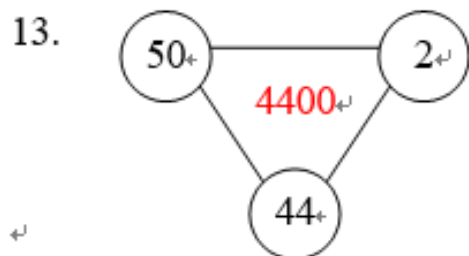
9.  $50 \times 2 = \boxed{100}$

10.  $4 \times 25 = \boxed{100}$

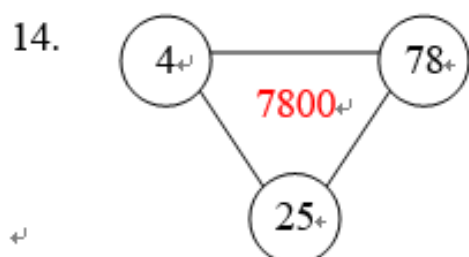
11.  $40 \times 25 = \boxed{1000}$

12.  $125 \times 8 = \boxed{1000}$

▲ 利用以上的結果，以較快捷的方法，把下面三角形每個  $\bigcirc$  中的數相乘，然後把計算結果填在三角形內。

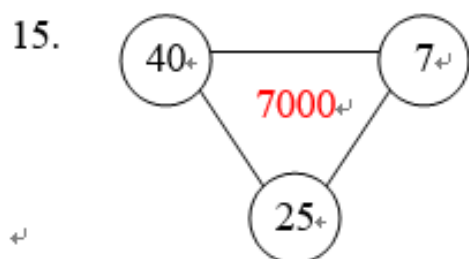


$$\begin{aligned} & 50 \times 2 \times 44 \\ &= \boxed{100} \times 44 \\ &= \boxed{4400} \end{aligned}$$



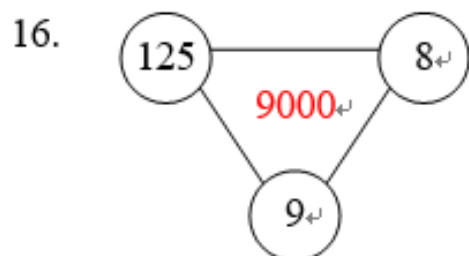
或  $25 \times 4$

$$\begin{aligned} & \boxed{4} \times \boxed{25} \times 78 \\ &= \boxed{100} \times 78 \\ &= \boxed{7800} \end{aligned}$$



$$\begin{aligned} & \boxed{40} \times \boxed{25} \times \boxed{7} \\ &= \boxed{1000} \times \boxed{7} \\ &= \boxed{7000} \end{aligned}$$

算式只供參考，計算方法應由學生自行選擇。



$$\begin{aligned} & \underline{125 \times 8 \times 9} \\ &= \underline{1000 \times 9} \\ &= \underline{9000} \end{aligned}$$

算式只供參考，計算方法應由學生自行選擇。