

樂善堂楊仲明學校

數學科五年級自學工作紙(三)

姓名： \_\_\_\_\_ ( ) 日期： \_\_\_\_\_

班別： 五年級 \_\_\_\_\_ 班 成績： \_\_\_\_\_

小數加減

(一) 算算看。

1. 
$$\begin{array}{r} 1.2 \\ + 0.9 \\ \hline \square \end{array}$$

2. 
$$\begin{array}{r} 18.0 \\ - 9.6 \\ \hline \square \end{array}$$

3. 
$$\begin{array}{r} 40.0 \\ - 23.4 \\ \hline \square \\ - 5.6 \\ \hline \square \end{array}$$

4. 
$$\begin{array}{r} 2.41 \\ 3.02 \\ + 2.30 \\ \hline \square \end{array}$$

5.  $5.7 + 4.6 = \square$

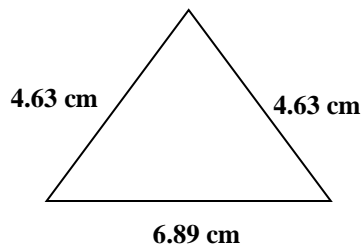
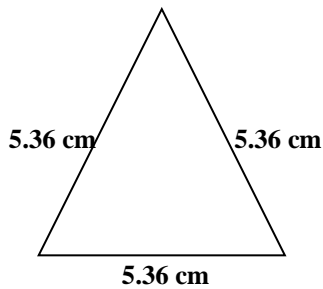
6.  $\square + 2.6 = 10.85$

7.  $7.9 + 12.25 + 5.85 = \square$

8.  $8.81 - 0.44 - 3.45 = \square$

以直式計算時要注意  
對齊小數點。

(二) 選擇題：把正確答案前○塗黑及塗滿。



9. 等邊三角形的周界是多少厘米?

- A. 13.34      ○ B. 16.08      ○ C. 16.09      ○ D. 17.08

10. 等腰三角形的周界是是是多少厘米?

- A. 14.29      ○ B. 16.82      ○ C. 16.15      ○ D. 17.15

(三)列式計算下列各題。

11. 建華家中有蘋果汁 2.23 升，橙汁 0.98 升，共有果汁多少升？

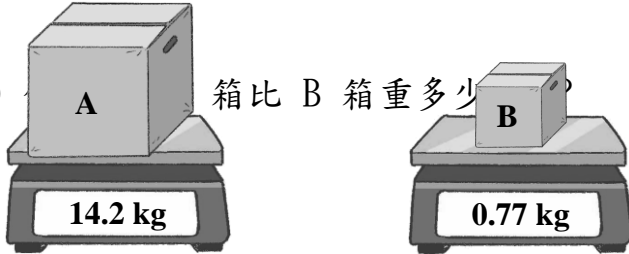
---

---

---

12.

(a) 箱比 B 箱重多少



(b) 如果 A 箱最多可盛載 20 kg 的貨物，則 A 箱最多還可多放貨物幾 kg？

(四)挑戰題：把下面的算式加上小數點，組成正確的算式。

13.

$$963 - 963 = 86.67$$

14.

$$2455 - 8.35 = 162$$

---

---

---