

數學科六年級自學工作紙(一)



姓名： _____ ()



日期： _____

班別： _____ 年級 _____ 班

成績： _____

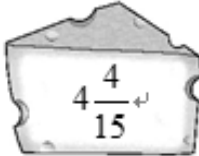

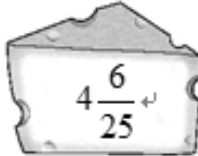

分別把數值較大的  和  圈出來。

1.  





2.  

在適當的空格內加「✓」。

3. 下列各數中，哪一個數的數值最小？

			
<input type="checkbox"/>	<input type="checkbox"/>	<input checked="" type="checkbox"/>	<input type="checkbox"/>

4. 下列各數中，哪一個數的數值最大？

			
<input type="checkbox"/>	<input type="checkbox"/>	<input checked="" type="checkbox"/>	<input type="checkbox"/>


▲ 把下列各數由大至小排列出來。

5. 0.75 , $\frac{11}{14}$, $\frac{7}{8}$ $\frac{7}{8} > \frac{11}{14} > 0.75$

6. 9.515 , $9\frac{14}{25}$, $9\frac{11}{20}$ $9\frac{14}{25} > 9\frac{11}{20} > 9.515$

▲比一比，填一填。

卓文、姜欣和子博正在談論昨天用了多少時間完成功課。



7. 三人中最快完成功課的是 卓文。
8. 三人中用了最長時間才能完成功課的是 姜欣。
9. 卓文和姜欣完成功課的時間相差了 24 分鐘。

以下是某商店紅豆、綠豆、黃豆和黑豆的存貨量。依指示在空格內填寫正確的答案。

貨品	存貨量 (公斤)	
	小數 (答案取二位小數)	分數
10. 紅豆	9.25	$9\frac{1}{4}$
11. 綠豆	9.34	$9\frac{17}{50}$
12. 黃豆	9.28	$9\frac{9}{32}$
13. 黑豆	9.35	$9\frac{7}{20}$

14. 存貨量最多的是 黑豆，最少的是 紅豆，兩者相差 $\frac{1}{10}$ 公斤。
(以分數作答)