

數學科六年級自學工作紙(三)

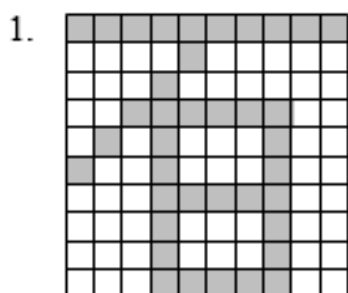
姓名： _____ ()

日期： _____

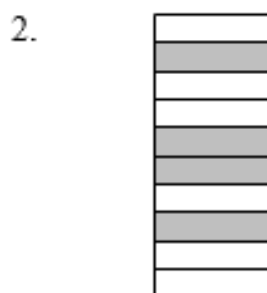
班別： _____ 年級 _____ 班

成績： _____

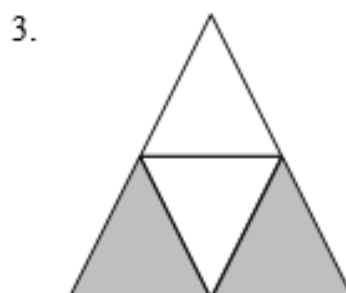
觀察下列各圖，填寫各着色部分佔全圖的百分率。



%







%






%


回答下列各題。

水族館有熱帶魚 200 條，其中有  46 條， 80 條，其餘的是  。

4.  的數量佔全部熱帶魚的百分之幾？ _____ %

5.  的數量佔全部熱帶魚的百分之幾？ _____ %

6.  和  的數量佔全部熱帶魚的百分之幾？ _____ %

7.  的數量佔全部熱帶魚的百分之幾？ _____ %

有  多少條？

