





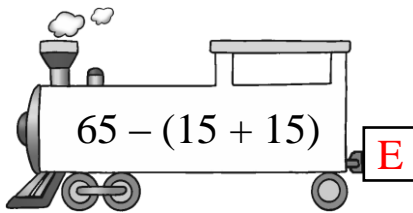


第一課：括號的認識

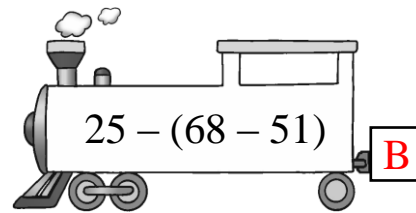
找出代表正確答案的火車卡，把英文字母填在空格內。



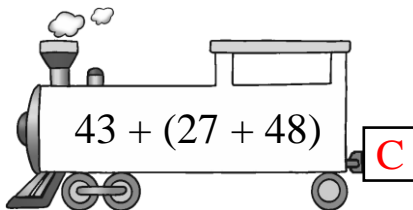
1.



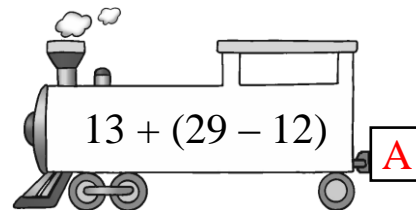
2.



3.



4.



算算看，然後比較各算式的計算結果，圈出正確的答案。

5.  $218 - (56 + 77) = \boxed{85}$   
 $218 - 56 + 77 = \boxed{239}$  } 計算結果 ( 相同 / 不相同 )。

6.  $170 + (84 - 36) = \boxed{218}$   
 $170 + 84 - 36 = \boxed{218}$  } 計算結果 ( 相同 / 不相同 )。

7.  $145 - (91 - 28) = \boxed{82}$   
 $145 - 91 - 28 = \boxed{26}$  } 計算結果 ( 相同 / 不相同 )。

## 泰式美食

餐牌(只供外賣)					
泰式沙律	每客	\$143	菠蘿炒飯	每客	\$37
咖哩炒蟹	每客	\$84	冬蔭功湯	每客	\$45
生菜包	每客	\$	芒果糯米飯	每客	\$

列式計算下列各題。(運用括號列式計算)

- ▲ 8. 俊彥付 100 元，買菠蘿炒飯和冬蔭功湯各一客，應找回多少元？

$$\begin{aligned} & 100 - ( \boxed{37} \oplus \boxed{45} ) \\ & = 100 - \boxed{82} \\ & = \boxed{18} \end{aligned}$$

應找回 18 元。

9. 生菜包比咖哩炒蟹便宜 10 元，雲妮買生菜包和咖哩炒蟹各一客，共需付多少元？

$$\begin{aligned} & \boxed{84} \oplus (84 - 10) \\ & = \underline{84 + 74} \\ & = \underline{158} \end{aligned}$$

生菜包每客售  
(84 -  $\boxed{10}$ ) 元。

共需付 158 元。

- ▲ 10. 一客芒果糯米飯比冬蔭功湯貴 7 元，一客泰式沙律比一客芒果糯米飯貴多少元？

$$\begin{aligned} & 143 - (45 + 7) \\ & = 143 - 52 \\ & = 91 \end{aligned}$$

一客泰式沙律比一客芒果糯米飯貴 91 元。  
或其他合理算法

用括號表示先計算的部分。