

樂善堂楊仲明學校
數學科三年級自學工作紙(六)

姓名：_____ ()

日期：_____

班別：_____年級_____班

成績：_____

3下A 單元二

4 乘減混合計算

算算看。

1. $8 \times 6 - 23$
= - 23
=

先乘後減

2. $75 - 5 \times 6$
= 75 -
=

3. $27 \times (36 - 32)$
= 27 \times
=

先計算括號
內的部分

4. $(91 - 15) \times 7$
= \times 7
=

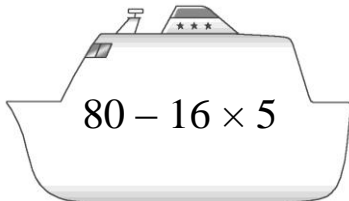
5. $43 - 10 \times 3 =$


6. $(48 - 10) \times 3 =$

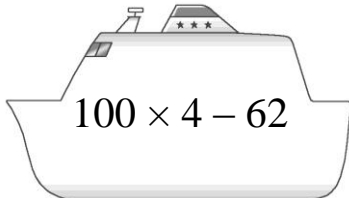
7. $7 \times (73 - 58) =$

8. $65 - 8 \times 8 =$

圈出答案。

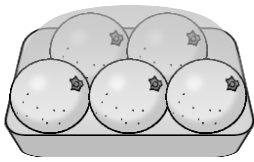
9. 
 $80 - 16 \times 5$




10. 
 $100 \times 4 - 62$




買水果



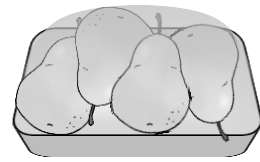
橙
每份 25 元



蘋果
每份 30 元



葡萄
每份 46 元



梨
每份 20 元

列式計算下列各題。

11. 媽媽買了 3 份蘋果，付 100 元，應找回多少元？

$$\begin{aligned} & \square - \square \bigcirc \square \\ & = \square - \square \\ & = \square \end{aligned}$$

應找回 _____ 元。

12. 買 2 份葡萄比買 1 份梨貴多少元？

13. 買 7 份橙比買 7 份蘋果便宜多少元？