

樂善堂楊仲明學校  
數學科 三年級 自學工作紙(五)  
立體圖形 (一)

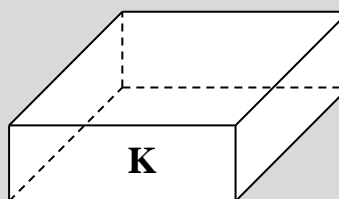
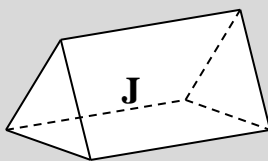

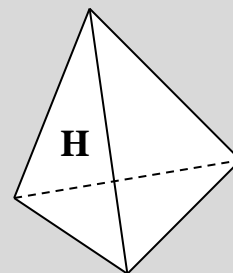
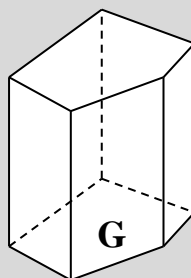
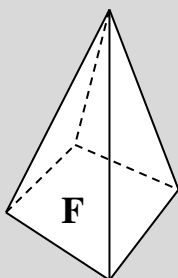
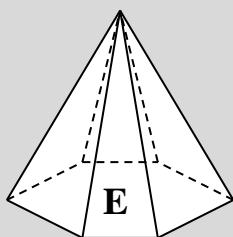
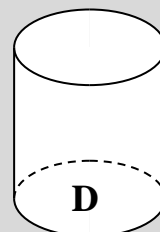
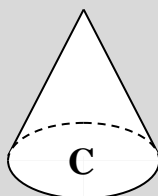
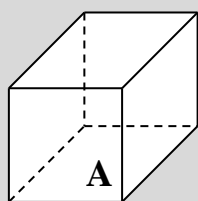
姓名：\_\_\_\_\_ ( )

日期：\_\_\_\_\_

班別：\_\_\_\_\_年級\_\_\_\_\_班

成績：\_\_\_\_\_

依指示寫出所有代表答案的英文字母。



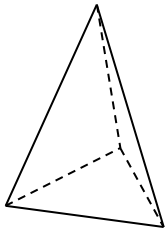
1. 柱體：\_\_\_\_\_

2. 錐體：\_\_\_\_\_

3. 球體：\_\_\_\_\_

看圖完成下列各題。

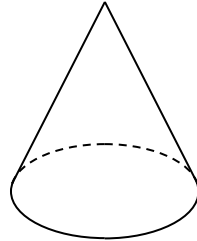
4.



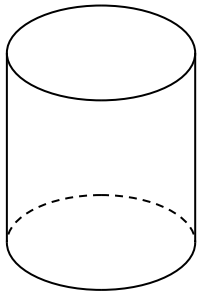
這是 \_\_\_\_\_ 角錐體。  
( 有 / 沒有 ) 底和尖頂；  
底是 ( 三角形 / 四邊形 )；  
側面是 ( 平面 / 曲面 )。

5.

這是 \_\_\_\_\_ 錐體。  
( 有 / 沒有 ) 底和尖頂；  
底是 ( 四邊形 / 圓形 )；  
側面是 ( 平面 / 曲面 )。



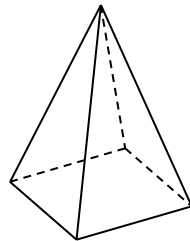
6.



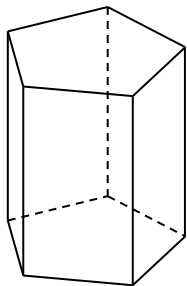
這是 \_\_\_\_\_ 柱體。  
底是 \_\_\_\_\_ 形；  
側面是 \_\_\_\_\_ 面。

7.

這是 \_\_\_\_\_ 體。  
底是 \_\_\_\_\_ 形；  
側面都是 \_\_\_\_\_ 形；  
共有 \_\_\_\_\_ 個面。



8.



這是 \_\_\_\_\_ 體。  
有 \_\_\_\_\_ 個大小相同的底；  
底是 \_\_\_\_\_ 形；  
側面都是 \_\_\_\_\_ 形；  
共有 \_\_\_\_\_ 個面。