

樂善堂楊仲明學校
 數學科 三年級 自學工作紙(六)
 立體圖形 (二)

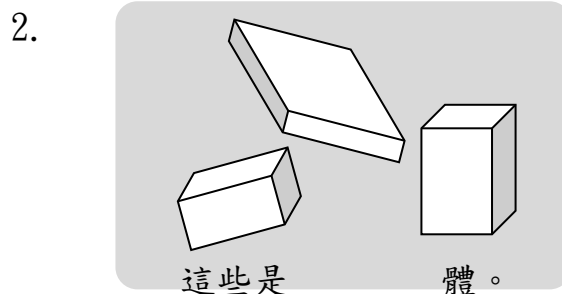
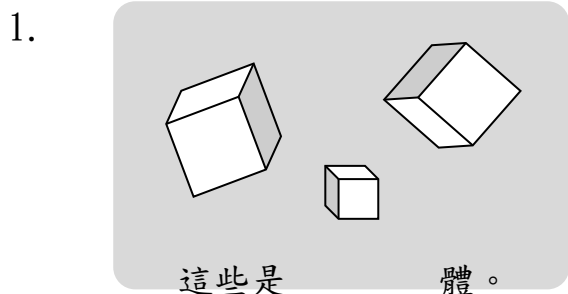
姓名: _____ ()

日期: _____

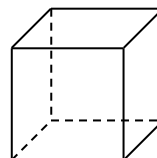
班別: _____ 年級 _____ 班

成績: _____

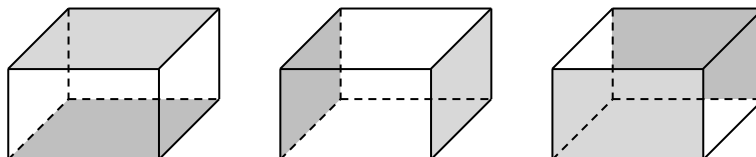
看圖回答問題。



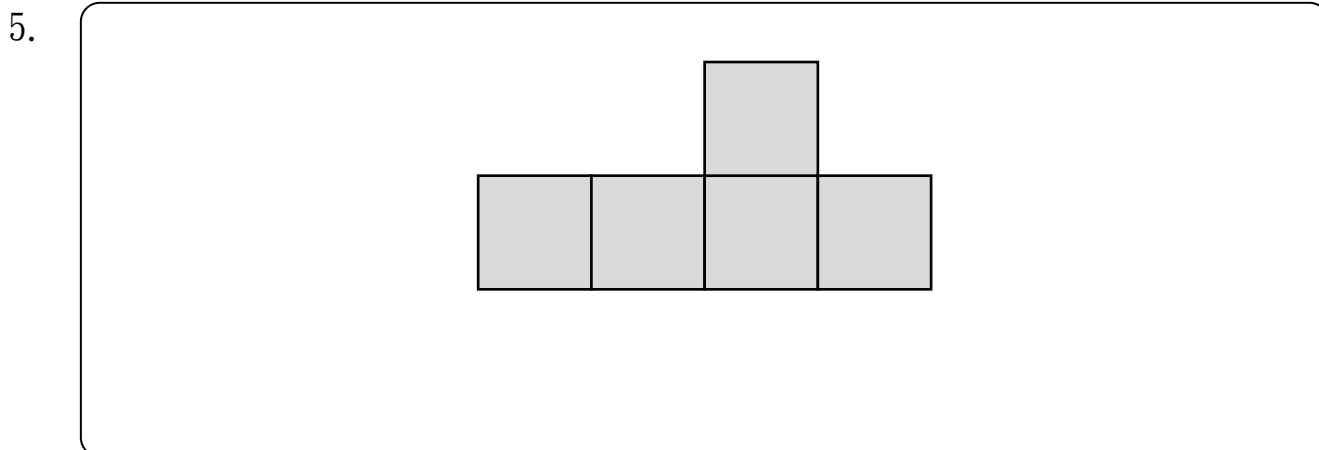
3. 右圖是一個正方體，它有 _____ 個面，
 每一個面都是 _____ 形。



4. 下圖是長方體，每個長方體都分別有 _____ 對互相平行的面。



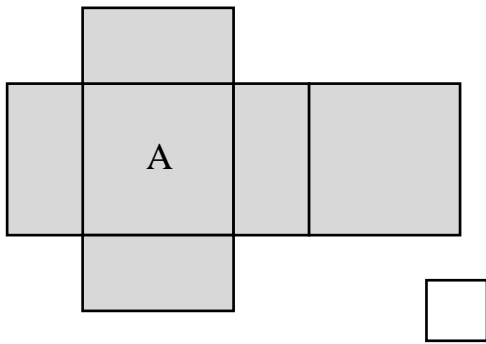
試在下加畫一個面，使成為一個正方體的紙樣。



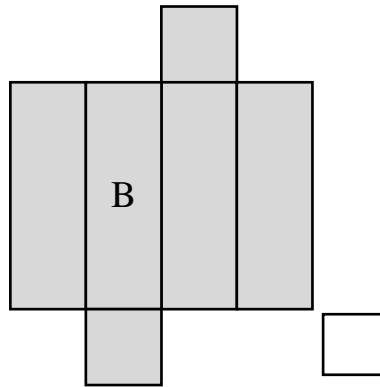
摺紙樣

觀察下面的紙樣，可以摺成正方體的，在空格內加「✓」；可摺成長方體的加「○」。

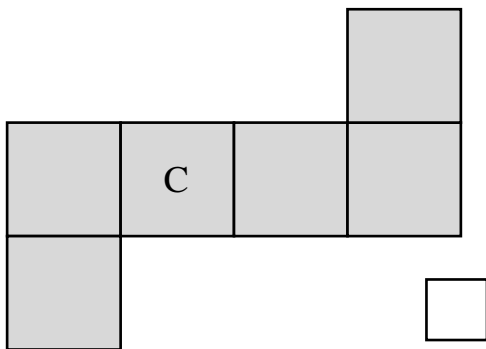
6.



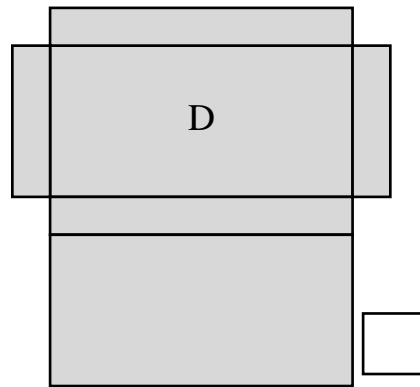
7.



8.

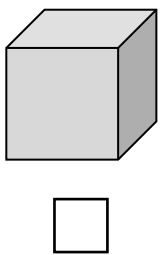


9.




下面各立體圖形是由上面哪一個紙樣摺成的？在空格內填寫代表紙樣的英文字母。


10.



11.



12.



13.

